

**SELEKSI OLIMPIADE TINGKAT KABUPATEN/KOTA 2015
CALON TIM OLIMPIADE MATEMATIKA INDONESIA 2016**

Prestasi itu diraih bukan didapat !!!

SOLUSI SOAL

Bidang Matematika



Disusun oleh : Eddy Hermanto, ST

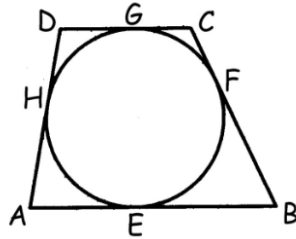
Olimpiade Matematika Tk Kabupaten/Kota 2015

- $2015 = 5 \cdot 13 \cdot 31$
Banyaknya faktor positif = $2 \cdot 2 \cdot 2 = 8$
 \therefore Jadi, banyaknya faktor bulat positif dari 2015 adalah 8.
- Semua kemungkinan jumlah keenam dadu sama dengan 9 adalah $(1,1,1,1,1,4)$, $(1,1,1,1,2,3)$, $(1,1,1,2,2,2)$.
Maka ada 3 kasus :
 - Kasus 1, jika susunannya adalah $(1,1,1,1,1,4)$.
Banyaknya permutasi adalah $\frac{6!}{5!} = 6$
 - Kasus 2, jika susunannya adalah $(1,1,1,1,2,3)$.
Banyaknya permutasi adalah $\frac{6!}{4!} = 30$
 - Kasus 3, jika susunannya adalah $(1,1,1,2,2,2)$.
Banyaknya permutasi adalah $\frac{6!}{3!3!} = 20$Jadi, banyaknya cara = 56.
 \therefore Jadi, probabilitas jumlah mata yang muncul 9 adalah $\frac{56}{6^6}$.
- $g(x) = 2x - 4$
 $(f \circ g)(x) = f(g(x)) = \frac{7x + 3}{5x - 9}$

Alternatif 1 :
 $g(3) = 2(3) - 4 = 2$
 $f(2) = f(g(3)) = \frac{7(3) + 3}{5(3) - 9} = 4$

Alternatif 2 :
 $f(2x - 4) = \frac{7x + 3}{5x - 9}$
Misalkan $y = 2x - 4$ maka $x = \frac{y+4}{2}$.
 $f(y) = \frac{7\left(\frac{y+4}{2}\right) + 3}{5\left(\frac{y+4}{2}\right) - 9} = \frac{7y + 34}{5y + 2}$
Yang setara dengan
 $f(x) = \frac{7x + 34}{5y + 2}$
 $f(2) = \frac{7(2) + 34}{5(2) + 2} = 4$
 \therefore Jadi, nilai $f(2)$ adalah 4.
- Jika titik P di luar lingkaran dan garis yang ditarik dari titik P menyinggung lingkaran tersebut di titik Q dan R maka $PQ = PR$.

Olimpiade Matematika Tk Kabupaten/Kota 2015



Dari gambar di atas didapat $DG = DH$; $CG = CF$; $BF = BE$; $AE = AH$
 Keliling = $AE + AH + BE + BF + CF + CG + DG + DH = 2(DG + CG + AE + BE)$
 Keliling = $2(DC + AB) = 2(25 + 84)$
 \therefore Keliling trapesium = **218**

5. Misalkan a_1, a_2, a_3, \dots merupakan barisan geometri dengan rasio r dan $a_1 = a$.
 $a_1 + a_3 = a(1 + r^3) = 20$

$$a_1 + a_2 + a_3 + a_4 + a_5 + a_6 = \frac{a(r^6 - 1)}{r - 1} = a(r^3 + 1)(r^2 + r + 1) = 20(r^2 + r + 1)$$

Karena $(Ax^2 + Bx + C)_{min} = \frac{4AC - B^2}{4A}$ untuk $A > 0$ maka $(r^2 + r + 1)_{min} = \frac{3}{4}$.

Maka nilai minimum dari $a_1 + a_2 + a_3 + a_4 + a_5 + a_6$ adalah $20 \cdot \frac{3}{4} = 15$.

\therefore Jadi, nilai minimum dari $a_1 + a_2 + a_3 + a_4 + a_5 + a_6$ adalah **15**.

6. $1500 < 11x < 2000$ sehingga $136 < x < 182$

$$970 < 7x < 1275 \text{ sehingga } 138 < x < 183$$

$$690 < 5x < 900 \text{ sehingga } 138 < x < 180$$

Maka $138 < x < 180$

Bilangan yang habis dibagi 3 dan 5 maka bilangan tersebut habis dibagi 15.

Bilangan yang habis dibagi 15 ada 2 yaitu 150 dan 165.

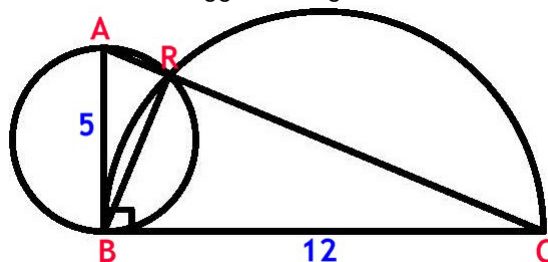
\therefore Jadi, banyaknya bilangan yang memenuhi ada **2**.

7. Karena setiap siswa memiliki paling sedikit satu teman dari kelompok belajar yang sama yang duduk disampingnya maka setiap siswa dalam kelompok belajar yang sama akan duduk berdekatan. Jika setiap kelompok dinyatakan sebagai obyek maka akan ada 5 obyek yang duduk membentuk lingkaran serta ada permutasi susunan duduk siswa pada masing-masing obyek.

Banyaknya cara melakukan = $(5 - 1)! \cdot 2! \cdot 2! \cdot 2! \cdot 3! \cdot 3! = 6912$.

\therefore Jadi, banyaknya cara melakukan hal tersebut adalah **6912**.

8. Misalkan titik R terletak pada sisi AC sehingga BR tegak lurus AC.



Olimpiade Matematika Tk Kabupaten/Kota 2015

Karena $\angle ARB = 90^\circ$ maka lingkaran berdiameter AB akan melalui titik R.

Karena $\angle BRC = 90^\circ$ maka lingkaran berdiameter BC akan melalui titik R.

Jadi, titik R = P.

$$AC \cdot BP = AB \cdot BC$$

$$13 \cdot BP = 5 \cdot 12$$

$$BP = x = \frac{60}{13}$$

$$\frac{240}{x} = 52$$

\therefore Jadi, nilai dari $\frac{240}{x}$ adalah 52.

9. $a^4 + a^2b^2 + b^4 = 6$

$$a^2 + ab + b^2 = 4$$

$$a^4 + b^4 + a^2b^2 + 2a^2b^2 + 2ab(a^2 + b^2) = 4^2$$

$$2a^2b^2 + 2ab(4 - ab) = 10$$

Misalkan $y = ab > 0$

$$ab = \frac{5}{4}$$

$$(a + b)^2 = a^2 + b^2 + ab + ab = 4 + \frac{5}{4} = \frac{21}{4}$$

$$a + b = \frac{\sqrt{21}}{2}$$

\therefore Jadi, nilai $a + b$ adalah $\frac{\sqrt{21}}{2}$.

10. Segitiga dibentuk dari 3 titik. Maka banyaknya segitiga = ${}_{20}C_3 = 1140$.

Agar luas segitiga positif maka ketiga titik tidak boleh berada pada satu garis lurus. Maka akan dicari banyaknya 3 titik yang berada pada satu garis lurus.

- Pada arah horisontal

Ada 4 buah 5 titik berada pada satu garis lurus.

Banyaknya 3 titik yang berada pada satu garis lurus = $4 \cdot {}_5C_3 = 40$.

- Pada arah vertikal

Ada 5 buah 4 titik berada pada satu garis lurus.

Banyaknya 3 titik yang berada pada satu garis lurus = $5 \cdot {}_4C_3 = 20$.

- Pada arah diagonal

* 4 titik berada pada satu garis lurus

Ada 2 buah dengan gradien 1 dan ada 2 buah dengan gradien -1 .

Maka banyaknya 3 titik yang berada pada satu garis lurus = $4 \cdot {}_4C_3 = 16$.

* 3 titik berada pada satu garis lurus

Ada 2 buah dengan gradien 1, ada 2 buah dengan gradien -1 , ada 2 buah dengan gradien $1/2$ dan ada 2 buah dengan gradien $-1/2$.

Maka banyaknya 3 titik yang berada pada satu garis lurus = $8 \cdot {}_3C_3 = 8$.

Maka banyaknya segitiga dengan luas positif = $1140 - 40 - 20 - 16 - 8 = 1056$.

\therefore Jadi, banyaknya segitiga dengan luas positif adalah 1056.

Olimpiade Matematika Tk Kabupaten/Kota 2015

11. $31^n + x \cdot 96^n$ habis dibagi $2015 = 5 \cdot 13 \cdot 31$ maka
 $31^n + x \cdot 96^n \equiv 1^n + x \cdot 1^n \pmod{5} \equiv 1 + x \pmod{5}$
Jadi, $x \equiv -1 \pmod{5}$
 $31^n + x \cdot 96^n \equiv 5^n + x \cdot 5^n \pmod{13}$
Jadi, $x \equiv -1 \pmod{13}$
 $31^n + x \cdot 96^n \equiv x \cdot 3^n \pmod{31}$
FPB $(3, 31) = 1$ maka $x \equiv 0 \pmod{31}$
Maka $x = 31a$ dengan $a \in \mathbb{N}$
 $31a \equiv -1 \pmod{13}$
 $5a \equiv -1 \pmod{13}$
 $a = 13b + 5$ dengan $b \in \mathbb{N}$
 $x = 31(13b + 5) = 403b + 155$
 $403b + 155 \equiv -1 \pmod{5}$
 $403b \equiv -1 \pmod{5}$
 $3b \equiv -1 \pmod{5}$
Maka $b = 5c + 3$
 $x = 403b + 155 = 403(5c + 3) + 155 = 2015c + 1364$ dengan $c \in \mathbb{N}$
 \therefore Jadi, nilai terkecil x yang memenuhi adalah **1364**.

12. $n^3 + 1 = (n + 1)(n^2 - n + 1)$
Maka $n^2 - n + 1$ membagi $n^3 + 1$
Misalkan $y = n^8 + n^7 + n^6 + 2n^5 + 2n^4 + 2n^3 + 2n^2 + 2017$
 $y = n^5(n^3 + 1) + n^4(n^3 + 1) + n^3(n^3 + 1) + n^2(n^3 + 1) + n(n^3 + 1) + n^3 + 1 + n^2 - n + 1 + 2015$
Maka haruslah $n^2 - n + 1$ membagi 2015.
$$n^2 - n + 1 = \left(n - \frac{1}{2}\right)^2 + \frac{3}{4}$$

Maka $n^2 - n + 1 \geq 1$
Ada 8 kasus :
 - Jika $n^2 - n + 1 = 1$
Maka $n = 0$ atau $n = 1$
 - Jika $n^2 - n + 1 = 5$
Tidak ada n bulat yang memenuhi.
 - Jika $n^2 - n + 1 = 13$
Maka $n = 4$ atau $n = -3$
 - Jika $n^2 - n + 1 = 31$
Maka $n = 6$ atau $n = -5$
 - Jika $n^2 - n + 1 = 65$
Tidak ada n bulat yang memenuhi.
 - Jika $n^2 - n + 1 = 155$
Tidak ada n bulat yang memenuhi.
 - Jika $n^2 - n + 1 = 403$
Tidak ada n bulat yang memenuhi.
 - Jika $n^2 - n + 1 = 2015$
Tidak ada n bulat yang memenuhi. \therefore Jadi, semua n bulat yang memenuhi adalah $-5, -3, 0, 1, 4, 6$.

Olimpiade Matematika Tk Kabupaten/Kota 2015

13. $x^3 - 5x^2 - 9x + 10 = 0$ akar-akarnya a, b dan c.

$$a + b + c = 5$$

$$P(x) = Ax^3 + Bx^2 + Cx - 2015$$

$$P(a) = b + c = 5 - a$$

$$Aa^3 + Ba^2 + Ca - 2015 = 5 - a$$

$$Aa^3 + Ba^2 + (C + 1)a - 2020 = 0 \quad \dots\dots\dots (1)$$

$$P(b) = a + c = 5 - b$$

$$Ab^3 + Bb^2 + Cb - 2015 = 5 - b$$

$$Ab^3 + Bb^2 + (C + 1)b - 2020 = 0 \quad \dots\dots\dots (2)$$

$$P(c) = a + b = 5 - c$$

$$Ac^3 + Bc^2 + Cc - 2015 = 5 - c$$

$$Ac^3 + Bc^2 + (C + 1)c - 2020 = 0 \quad \dots\dots\dots (3)$$

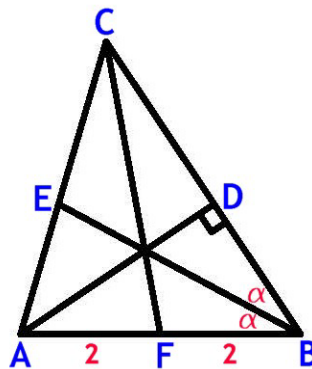
Berdasarkan (1), (2) dan (3) maka $Ax^3 + Bx^2 + (C + 1)x - 2020 = 0$ juga akan memiliki akar-akar a, b dan c.

Dengan membandingkan persamaan di atas dengan persamaan $x^3 - 5x^2 - 9x + 10 = 0$ didapat $A = -202$; $B = -202(-5) = 1010$ dan $C + 1 = -202(-9) = 1818$ sehingga $C = 1817$

$$A + B + C = -202 + 1010 + 1817 = 2625$$

∴ Jadi, nilai $A + B + C$ adalah 2625.

14. Karena CF adalah garis berat maka $AF = FB = 2$



Karena BE adalah garis bagi maka

$$\frac{CE}{EA} = \frac{BC}{AB} = \frac{5}{4}$$

Ketiga garis bertemu di satu titik maka sesuai dari Ceva didapat

$$\frac{AF}{FB} \cdot \frac{BD}{DC} \cdot \frac{CE}{EA} = 1$$

$$\frac{2}{2} \cdot \frac{BD}{DC} \cdot \frac{5}{4} = 1$$

$$\text{Maka } \frac{BD}{DC} = \frac{4}{5}$$

Misalkan $BD = 4x$ maka $CD = 5x$

$$BD + CD = 5 \text{ maka } x = \frac{5}{9}$$

$$\text{Maka panjang } CD = \frac{25}{9} = \frac{m^2}{n^2}$$

Didapat $m = 5$ dan $n = 3$.

∴ Jadi, nilai $m - n$ adalah 2.

Olimpiade Matematika Tk Kabupaten/Kota 2015

15. $n = a + b$ dengan $n \leq 2015$ dan $n, a, b \in \mathbb{N}$.

Jelas bahwa $b < a$

$$a + b = n \leq 2015$$

$$2b < n \leq 2015 \text{ maka } b \leq 1007$$

Andaikan $\text{FPB}(a, b) = d$

Maka $a = dp$ dan $b = dq$

$a - b = d(p - q)$ merupakan bilangan prima. Maka $d = 1$

Karena ab kuadrat sempurna sedangkan $\text{FPB}(a, b) = 1$ maka haruslah a dan b masing-masing kuadrat sempurna.

Misalkan $a = m^2$ dan $b = t^2$

$$t^2 \leq 1007 \text{ sehingga } t \leq 31$$

$a - b = m^2 - t^2 = (m + t)(m - t)$ adalah bilangan prima.

Maka $m - t = 1$

$a - b = (t + 1)^2 - t^2 = 2t + 1 \leq 63$ adalah bilangan prima ganjil.

Bilangan prima ganjil ≤ 63 adalah 3, 5, 7, 11, 13, 17, 19, 23, 29, 31, 37, 41, 43, 47, 53, 59 dan 61. Banyaknya nilai b yang memenuhi ada 17.

Maka banyaknya nilai n yang memenuhi ada 17.

\therefore Jadi, banyaknya nilai n yang memenuhi ada 17.

16. Misalkan panjang $BC = 2y$ dan $AB = AC = CD = x$. Titik E pertengahan BC sehingga $BE = EC = y$.

$$\angle BAE = \angle CAE$$

$$\cos 3\alpha = 4 \cos^3 \alpha - 3 \cos \alpha$$

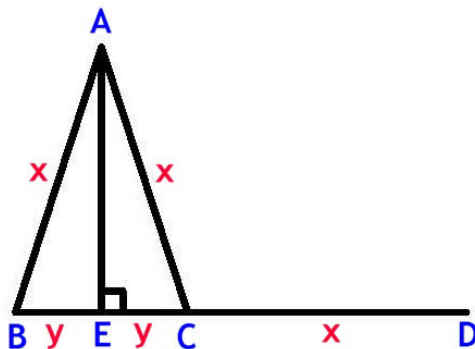
$$\sin(36^\circ) = \sin(90^\circ - 54^\circ) = \cos 54^\circ$$

$$2 \sin 18^\circ \cos 18^\circ = 4 \cos^3 18^\circ - 3 \cos 18^\circ$$

$$2 \sin 18^\circ = 4 - 4 \sin^2 18^\circ - 3$$

$$4 \sin^2 18^\circ + 2 \sin 18^\circ - 1 = 0$$

$$\sin 18^\circ = \frac{\sqrt{5} - 1}{4}$$



$$\frac{1}{|CD|} - \frac{1}{|BD|} = \frac{1}{|BD| + |CD|}$$

$$|BD|^2 - |CD|^2 = |BD||CD|$$

$$(2y + x)^2 - x^2 = (2y + x)(x)$$

$$4 \left(\frac{y}{x}\right)^2 + 2 \left(\frac{y}{x}\right) - 1 = 0$$

$$\frac{y}{x} = \frac{-2 + \sqrt{2^2 - 4(4)(-1)}}{8} = \frac{\sqrt{5} - 1}{4}$$

Olimpiade Matematika Tk Kabupaten/Kota 2015

$$\sin \angle BAE = \frac{y}{x} = \frac{\sqrt{5} - 1}{4}$$

$$\angle BAE = 18^\circ$$

$$\text{Maka } \angle BAC = 36^\circ.$$

\therefore Jadi, besar $\angle BAC$ adalah 36° .

17. Misalkan bilangan-bilangan pada baris pertama adalah a , b dan c . Pada baris kedua adalah d , e , f dan baris ketiga g , h , i .

Jika $a = b$ maka agar memenuhi $a + b + c$ habis dibagi 3 maka $a = b = c$.

Jika $a \neq b$ maka agar memenuhi $a + b + c$ habis dibagi 3 maka a , b , c semuanya berbeda dengan a , b , $c \in \{1, 2, 3\}$.

Maka masing-masing ada 3 kemungkinan untuk nilai a dan b . Nilai c menyesuaikan sehingga hanya ada 1 kemungkinan.

Maka masing-masing ada 3 kemungkinan untuk nilai d dan e . Nilai f menyesuaikan sehingga hanya ada 1 kemungkinan.

Jelas nilai g , h , i hanya menyesuaikan dengan bilangan-bilangan di atasnya. Jadi, masing-masing hanya ada 1 kemungkinan.

Cukup membuktikan bahwa jika $a + b + c$, $d + e + f$, $a + d + g$, $b + e + h$ dan $c + f + i$ masing-masing habis dibagi 3 maka $g + h + i$ juga habis dibagi 3.

$$g = 3k - a - d, h = 3m - b - e \text{ dan } i = 3n - c - f$$

$$g + h + i = 3(k + m + n) - (a + b + c) - (d + e + f) \text{ yang habis dibagi 3.}$$

Jadi, banyaknya kemungkinan yang memenuhi ada $3 \times 3 \times 3 \times 3 = 81$.

\therefore Jadi, banyaknya penomoran yang memenuhi adalah **81**.

18. $\cos 3\alpha = 4 \cos^3 \alpha - 3 \cos \alpha$

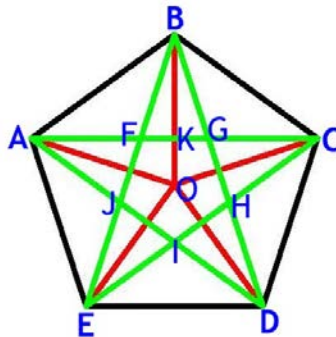
$$\sin (36^\circ) = \sin (90^\circ - 54^\circ) = \cos 54^\circ$$

$$2 \sin 18^\circ \cos 18^\circ = 4 \cos^3 18^\circ - 3 \cos 18^\circ$$

$$2 \sin 18^\circ = 4 - 4 \sin^2 18^\circ - 3$$

$$4 \sin^2 18^\circ + 2 \sin 18^\circ - 1 = 0$$

$$\sin 18^\circ = \frac{\sqrt{5} - 1}{4}$$



$$\angle AOB = \frac{360^\circ}{5} = 72^\circ \text{ sehingga } \angle ABC = 108^\circ.$$

$$\text{Maka } \angle BAC = 36^\circ.$$

$$\frac{AC}{AB} = \frac{\sin 108^\circ}{\sin 36^\circ} = \frac{\sin 72^\circ}{\sin 36^\circ} = 2 \cos 36^\circ$$

$$\angle ABK = 54^\circ \text{ sehingga } \angle FBK = 54^\circ - 36^\circ = 18^\circ.$$

Olimpiade Matematika Tk Kabupaten/Kota 2015

$$\frac{FG}{AC} = \frac{FK}{AK} = \frac{\tan 18^\circ}{\tan 54^\circ} = \frac{\sin 18^\circ}{\cos 18^\circ} \cdot \frac{\sin 36^\circ}{\cos 36^\circ}$$
$$\frac{FG}{AB} = \frac{2 \cdot \sin 18^\circ \cdot \sin 36^\circ}{\cos 18^\circ} = (2 \cdot \sin 18^\circ)^2$$

Segilima ABCDE dan FGHIJ sebangun maka perbandingan luas dapat dinyatakan sebagai kuadrat perbandingan sisi-sisinya.

$$\frac{S_1}{S_2} = \left(\frac{AB}{FG}\right)^2 = \left(\frac{1}{2 \cdot \sin 18^\circ}\right)^4 = \left(\frac{2}{\sqrt{5}-1}\right)^4 = \frac{7+3\sqrt{5}}{2}$$

∴ Jadi, nilai $\frac{S_1}{S_2}$ adalah $\frac{7+3\sqrt{5}}{2}$.

19. Misalkan $p, q \in \{1, 2, 3, \dots, 10\}$ dengan $p < q$ serta $a_{i-1} = q$ dan $a_i = p$.

Maka semua bilangan kurang dari p akan berada di kiri q dan semua bilangan lebih dari q akan berada di kanan p .

Semua bilangan di antara p dan q bisa berada di kiri q maupun di kanan p .

Maka persoalannya setara dengan banyaknya cara memilih bilangan di antara p dan q untuk ditaruh di kiri q .

Misalkan n adalah banyaknya bilangan di antara p dan q dengan $n \in \{0, 1, 2, \dots, 8\}$

Maka banyaknya cara memilih bilangan $= {}_n C_0 + {}_n C_1 + {}_n C_2 + \dots + {}_n C_n = 2^n$.

Banyaknya pasangan (p, q) untuk $n = 0, 1, 2, \dots, 8$ berturut-turut adalah 9, 8, 7, ..., 1.

Banyaknya permutasi hampir naik $= 9 \cdot 2^0 + 8 \cdot 2^1 + 7 \cdot 2^2 + \dots + 1 \cdot 2^8 = 1013$.

∴ Jadi, banyaknya permutasi hampir naik adalah 1013.

20. $f(a)$ adalah nilai maksimum dari $\left| \sin x + \frac{2}{\sin x + 3} + a \right|$ untuk $a \in R$.

$$-1 \leq \sin x \leq 1$$

Misalkan $t = 3 + \sin x$ maka $2 \leq t \leq 4$

$$\left| \sin x + \frac{2}{\sin x + 3} + a \right| = \left| t + \frac{2}{t} + a - 3 \right|$$

Dengan $3 \leq t + \frac{2}{t} \leq \frac{9}{2}$ sehingga $0 \leq t + \frac{2}{t} - 3 \leq \frac{3}{2}$

$$\text{Untuk } a \geq -\frac{3}{4} \text{ maka } f(a) = \left| a + \frac{3}{2} \right| = a + \frac{3}{2}$$

Karena linier maka $a + \frac{3}{2}$ minimum ketika $a = -\frac{3}{4}$

$$\text{Untuk } a \leq -\frac{3}{4} \text{ maka } f(a) = |a + 0| = -a$$

Karena linier maka $-a$ minimum ketika $a = -\frac{3}{4}$

∴ Jadi, nilai minimum $f(a)$ adalah $\frac{3}{4}$.